

제 4 교시

직업탐구 영역 (상업경제)

성명 수험 번호

1. 다음 탄소 배출권 제도의 시행에 따라 나타날 수 있는 현상으로 적절한 것을 <보기>에서 고른 것은?

이 제도는 온실 가스를 줄이기 위해, 탄소를 할당량 이상 배출하는 기업이나 국가가 잉여 배출권을 확보한 기업이나 국가에게 탄소 배출권을 구매하도록 하는 것이다.

- 환경부(www.me.go.kr), 2010 -

<보기>

ㄱ. 바젤 협약을 준수하는 기업들이 점차 증가할 것이다.
 ㄴ. 탄소 배출을 줄이기 위한 대체 에너지 개발이 활성화될 것이다.
 ㄷ. A 기업은 탄소 배출을 감축함으로써 환경 보호에 기여하게 될 것이다.
 ㄹ. B 기업은 실제 배출량만큼 잉여 배출권을 확보할 수 있게 될 것이다.

- ① ㄱ, ㄴ ② ㄱ, ㄷ ③ ㄴ, ㄷ ④ ㄴ, ㄹ ⑤ ㄷ, ㄹ

2. 다음은 2008년 전자 상거래 유형별 규모이다. (가)에 대한 설명으로 옳은 것을 <보기>에서 고른 것은?

2008년 전자 상거래 유형별 규모 (단위: 십억 원)

(가)	B2G	B2C	C2C 등
560,255	52,266	11,359	6,207

전자 상거래 유형은 거래 주체 간의 관계에 따라 분류할 수 있는데, (가)는 전자 상거래 유형 중 거래 규모가 가장 크다.

- 통계청, 「2009년 연간 및 4/4분기 전자상거래 및 사이버쇼핑 동향조사」 -

<보기>

ㄱ. 기업과 개인 간의 전자 상거래이다.
 ㄴ. 이윤 추구를 목적으로 하는 경제 주체 간 전자 상거래이다.
 ㄷ. ○○(주)가 정부 기관으로부터 온라인으로 주문받은 물품을 납품한 사례가 해당된다.
 ㄹ. △△(주)가 외부의 협력업체로부터 인터넷을 통하여 부품을 구입한 사례가 해당된다.

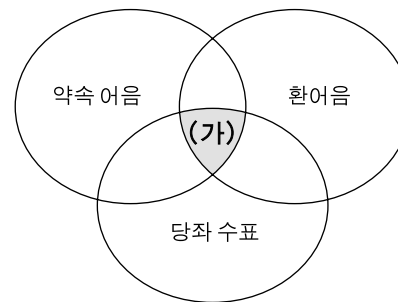
- ① ㄱ, ㄴ ② ㄱ, ㄷ ③ ㄴ, ㄷ ④ ㄴ, ㄹ ⑤ ㄷ, ㄹ

3. 다음에 나타난 소매상의 각 영업 목표를 달성할 수 있는 방안으로 적절하지 않은 것은?

- 취급 상품: 생활용품
- 영업 목표:
 - 유통 경로 단축을 통한 구매 비용 절감
 - 인건비를 포함한 영업비 절감
 - 단위당 이익을 낮게 책정하여 판매 증대
 - 재고 비용 절감을 통한 판매 가격 인하

- ① 상품 광고비 절감
 ② 박리다매 방식 적용
 ③ 직거래 구매 방식 도입
 ④ 셀프서비스 판매 방식 확대
 ⑤ 상품 회전율이 낮은 상품 취급 확대

4. 다음에 나타난 세 가지 지급 수단의 공통적인 특징인 (가)에 해당하는 내용으로 옳은 것을 <보기>에서 고른 것은?



<보기>

ㄱ. 부도의 위험이 있다.
 ㄴ. 금전 증권에 해당된다.
 ㄷ. 예금 한도 내에서 발행한다.
 ㄹ. 인수 제시 및 인수 절차가 필요하다.


- ① ㄱ, ㄴ ② ㄱ, ㄷ ③ ㄴ, ㄷ ④ ㄴ, ㄹ ⑤ ㄷ, ㄹ

5. 다음은 사회 보험에 대한 스무고개 놀이 대화이다. (가)에 해당하는 보험으로 옳은 것은?

한 고개	4대 보험에 속합니까?	예
두 고개	가입자의 노령, 장애 등에 대하여 본인이나 가족에게 급여를 지급합니까?	아니오
세 고개	근로자의 업무상 재해에 대한 보상을 목적으로 합니까?	아니오
네 고개	근로자의 실직 시 실업 보험금을 지급합니까?	아니오
다섯 고개	그럼 (가)입니까?	예

- ① 고용 보험 ② 국민 연금 ③ 산업 정책 보험
 ④ 국민 건강 보험 ⑤ 산업 재해 보상 보험

6. 다음은 무신용장 추심 결제 방식에 대한 수업 장면이다. (가), (나)에 대한 설명으로 옳은 것을 <보기>에서 고른 것은? [3점]



— <보기> —

ㄱ. (가)조건에서 수출업자는 일람 출금 환어음을 발행하여 대금을 회수한다.
 ㄴ. (나)조건에서 수입업자 거래 은행은 수출 대금에 대한 지급 약속을 해야 한다.
 ㄷ. (가)는 D/A이고, (나)는 D/P이다.
 ㄹ. 수출업자는 (가)조건보다 (나)조건에서 수출 대금을 빠르게 회수할 수 있다.

- ① ㄱ, ㄴ ② ㄱ, ㄷ ③ ㄴ, ㄷ ④ ㄴ, ㄹ ⑤ ㄷ, ㄹ

7. 다음 기존의 매매 조건에서 구매자의 요구 사항을 반영하였을 때 나타나는 매매 조건에 대한 설명으로 옳은 것을 <보기>에서 고른 것은? [3점]

○ 기존의 매매 조건

- 품명: ○○ 상품
- 수량 조건: 상자당 15,000원
- 인도 시기: 후일 인도
- 대금 지급: 상환급
- 품질 결정: 통명

○ 구매자의 요구 사항

- 상자당 10,000원으로 단가 인하
- 계약과 동시에 상품 인도
- 현재 자금 사정이 좋지 않아 상품 인수 후 대금 지급
- 인지도와 명성이 높은 상표명으로 품질 결정

— <보기> —

ㄱ. 수량 조건은 개수 단위 계산법을 유지한다.
 ㄴ. 인도 시기는 후일 인도를 유지한다.
 ㄷ. 대금 지급은 후급으로 변경한다.
 ㄹ. 품질 결정은 견품으로 변경한다.

- ① ㄱ, ㄴ ② ㄱ, ㄷ ③ ㄴ, ㄷ ④ ㄴ, ㄹ ⑤ ㄷ, ㄹ

8. 다음은 어느 국가의 연도별 경제 지표에 관한 내용이다. 이에 대한 설명으로 옳은 것만을 <보기>에서 있는 대로 고른 것은?

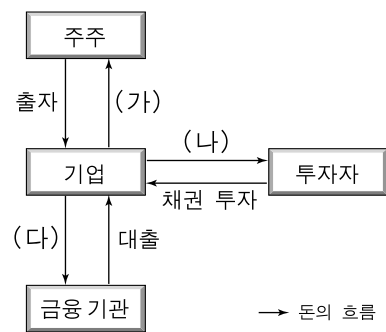
구분	GDP 성장률	$\frac{\text{수출액}}{\text{GDP}} \times 100$	$\frac{\text{수입액}}{\text{GDP}} \times 100$
2008년	3%	20%	40%
2009년	5%	40%	30%

— <보기> —

ㄱ. 2008년은 수출 의존도가 수입 의존도보다 높다.
 ㄴ. 2009년은 2008년보다 국내 총생산액이 증가하였다.
 ㄷ. 2009년은 2008년보다 GDP에서 무역이 차지하는 비중이 높다.

- ① ㄱ ② ㄷ ③ ㄱ, ㄴ ④ ㄴ, ㄷ ⑤ ㄱ, ㄴ, ㄷ

9. 그림은 기업의 자금 조달 방식을 나타낸 것이다. (가)~(다)에 대한 설명으로 옳은 것을 <보기>에서 고른 것은? [3점]



— <보기> —

ㄱ. (가)는 기업의 타인 자본에 대한 대가이다.
 ㄴ. (나)는 직접 금융으로 조달된 자금에 대한 비용이다.
 ㄷ. (다)는 한국은행 정책금리에 의해 영향을 받는다.
 ㄹ. (나)와 (다)는 기업 실적에 따라 지급된다.

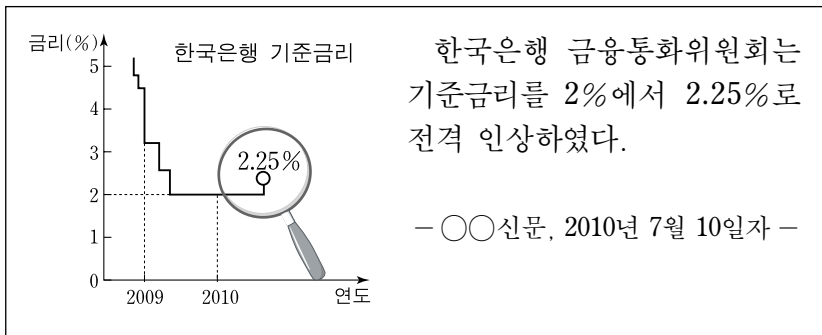
- ① ㄱ, ㄴ ② ㄱ, ㄷ ③ ㄴ, ㄷ ④ ㄴ, ㄹ ⑤ ㄷ, ㄹ

10. 다음은 ○○(주)의 물류 시스템 도입 사례이다. (가)에 들어갈 내용으로 가장 적절한 것은?

○○(주)는 화주와 화물차를 언제 어디서나 쉽게 연결하는 물류 시스템을 도입하였다. 이를 통해 화물과 가까이 있는 화물차를 연결하여, 화물차가 물건을 싣지 못하고 운행되었던 기존의 문제점을 개선하여 (가) 되었다.

- ① 하역비를 줄이게
 ② 공차율을 낮추게
 ③ 적재 비용을 줄이게
 ④ 표준화된 화대를 이용하게
 ⑤ 개별 운송 방식을 이용하게

11. 다음과 같이 기준금리가 변동하게 된 배경으로 적절한 것을 <보기>에서 고른 것은? (단, 기준금리 이외의 요인은 고려하지 않는다.) [3점]



— <보기> —

ㄱ. 실업률이 증가하고 있다.
 ㄴ. 물가 상승 압력이 높아지고 있다.
 ㄷ. 기업의 신규 투자 확대가 요구되고 있다.
 ㄹ. 시중 통화량이 과도하게 증가하고 있다.

- ① ㄱ, ㄴ ② ㄱ, ㄷ ③ ㄴ, ㄷ ④ ㄴ, ㄹ ⑤ ㄷ, ㄹ

12. 다음은 어느 가계의 금융 자산 구성 변화를 나타낸 것이다. 변화 후에 대한 설명으로 옳은 것을 <보기>에서 고른 것은? [3점]

변화 전		변화 후	
· 보통 예금	1,000만 원	· 보통 예금	500만 원
· 주택 청약 예금	500만 원	· 회사채	500만 원
· 정기 적금	3,000만 원	· 주식형 펀드	1,000만 원
· 주식	500만 원	· 주식	3,000만 원

— <보기> —

ㄱ. 저축성 예금의 금액이 증가하였다.
 ㄴ. 안정성보다 수익성이 높은 금융 자산의 금액이 증가하였다.
 ㄷ. 예금자보호법을 적용받는 금융 자산의 금액이 감소하였다.
 ㄹ. 경영 참가권을 가질 수 있는 금융 자산의 금액이 감소하였다.

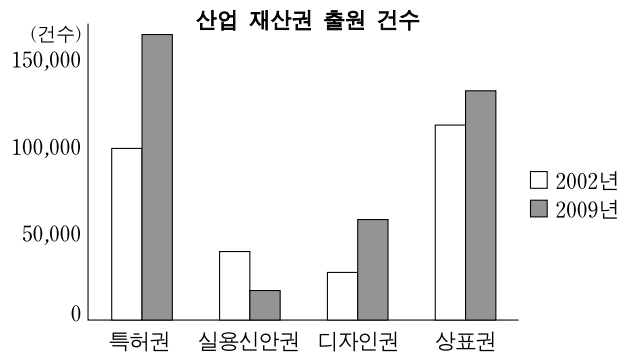
- ① ㄱ, ㄴ ② ㄱ, ㄷ ③ ㄴ, ㄷ ④ ㄴ, ㄹ ⑤ ㄷ, ㄹ

13. 다음은 상업의 주체와 기능에 대한 사례이다. ㉠~㉤에 대한 설명으로 옳은 것은?

㉠ 상품을 매매하는 ○○마트는 신선하고 품질이 우수한 과일을 판매하기 위하여 ㉡ 영업부장이 ㉢ 중개상의 소개를 받아 사과, 배 등을 매입하였다. 이 중 일부는 산지 냉장창고에 ㉣ 보관하고, 나머지는 물류 회사를 통하여 매장으로 ㉤ 운송하였다.

- ① ㉠은 상업의 본원적 기능에 해당된다.
 ② ㉡은 자기 명의로 거래를 한다.
 ③ ㉢은 경업금지의무가 있다.
 ④ ㉣은 장소적 불일치를 해소하는 기능을 한다.
 ⑤ ㉤은 시간적 불일치를 해소하는 기능을 한다.

14. 그래프는 각 연도별 산업 재산권 출원 건수이다. 이에 대한 설명으로 옳은 것을 <보기>에서 고른 것은? [3점]



— 특허청(www.kipo.go.kr), 2010 —

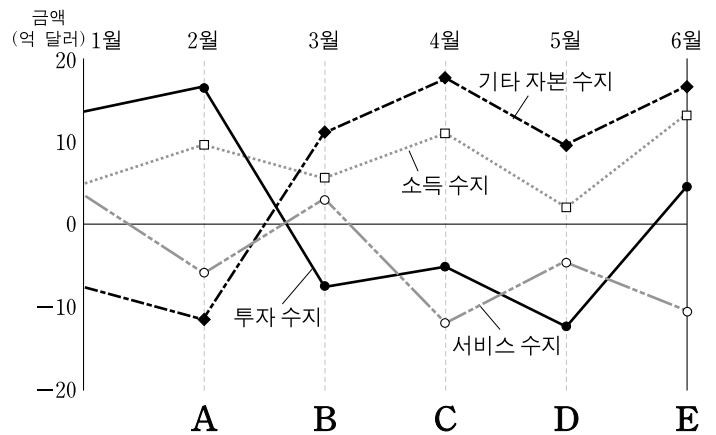
— <보기> —

ㄱ. 2002년에는 권리의 존속 기간이 설정 등록 후 15년인 산업 재산권의 출원 건수가 가장 많다.
 ㄴ. 2009년에는 실용적인 고안을 보호·장려하기 위한 산업 재산권의 출원 건수가 가장 적다.
 ㄷ. 권리의 존속 기간을 갱신할 수 있는 산업 재산권의 출원 건수는 2009년보다 2002년이 적다.
 ㄹ. 타인의 상품과 식별하기 위한 기호·문자와 관련된 산업 재산권의 출원 건수는 2009년보다 2002년이 많다.

- ① ㄱ, ㄴ ② ㄱ, ㄷ ③ ㄴ, ㄷ ④ ㄴ, ㄹ ⑤ ㄷ, ㄹ

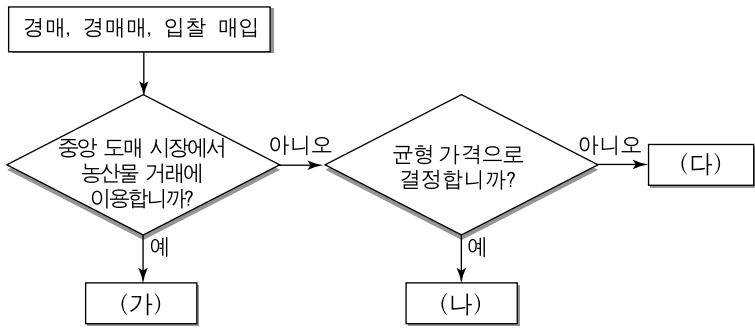
15. 다음 국제 수지 항목의 상황을 모두 충족하는 시점으로 옳은 것을 그래프의 A~E에서 고른 것은? [3점]

○ 해외 증권 투자가 속한 수지는 적자이다.
 ○ 운임, 보험료 등이 속한 수지는 전월 대비 흑자에서 적자로 전환되었다.
 ○ 해외 특허권의 자산 취득이 속한 수지는 전월 대비 흑자 규모가 확대되었다.



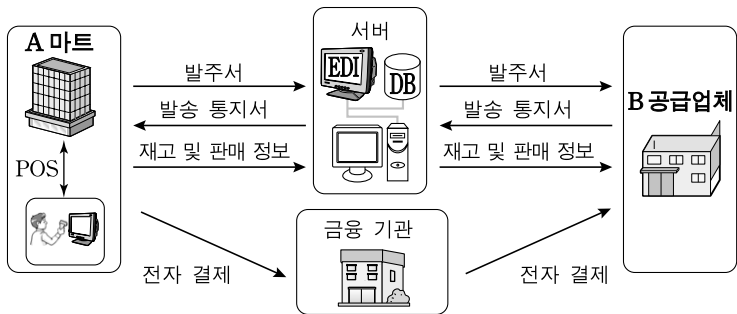
- ① A ② B ③ C ④ D ⑤ E

16. 그림은 경쟁 매매의 종류를 구분한 것이다. (가)~(다)에 대한 설명으로 옳은 것은?



- ① (가)는 판매자가 다수이다.
- ② (나)는 주로 구두나 손짓으로 가격 경쟁을 한다.
- ③ (다)는 관청, 공기업 등에서 물품 구매 시 이용한다.
- ④ (가)와 (나)는 구매자가 1인이다.
- ⑤ (가)는 적하법을 사용하고, (다)는 적상법을 사용한다.

17. 그림의 정보 시스템을 도입할 때 얻을 수 있는 기대 효과로 적절하지 않은 것은?




- ① A 마트는 재고 관리를 효율적으로 할 수 있다.
- ② A 마트는 발주서를 전자적으로 처리할 수 있다.
- ③ A 마트는 상품의 판매 현황을 실시간으로 파악할 수 있다.
- ④ B 공급업체는 결제 과정에서 현금 취급상의 위험을 줄일 수 있다.
- ⑤ B 공급업체는 비표준화된 상거래 양식의 사용 비중을 높일 수 있다.

18. 다음은 해외 진출 사례와 방식을 나타낸 것이다. (가)~(다)에 대한 설명으로 옳은 것은? [3점]

해외 진출 사례	해외 진출 방식
A 기업은 국내에서 생산한 반도체를 해외로 수출하였다.	(가)
B 기업은 해외 10여 개국의 기업과 상표 사용 계약을 체결하고 상표 사용료를 받았다.	(나)
C 기업은 해외 현지에 100% 단독 투자하여 공장을 건설한 후 현지에서 반도체를 생산, 판매하고 있다.	(다)

- ① (가)는 해외 직접 투자의 한 형태이다.
- ② (나)는 녹다운 수출 방식이다.
- ③ (다)는 턴키 계약 방식에 해당된다.
- ④ (다)는 (가)보다 무역 장벽 회피에 유리한 방식이다.
- ⑤ (나)는 경영 참가, (다)는 로열티 수입을 목적으로 한다.

19. 다음은 수출업자와 수입업자가 가격 조건을 협상하는 과정이다. 이에 대한 설명으로 옳은 것은? (단, 가격 조건은 인코텀즈 2000에 의하며, CPT와 CIP는 고려하지 않는다.) [3점]



- ① 전년도 가격 조건은 FAS조건이다.
- ② 결정된 가격 조건에 따른 위험의 분기점은 뉴욕항 본선이다.
- ③ (가)와 (나)는 C 그룹, (다)는 D 그룹 가격 조건에 속한다.
- ④ (가)와 (다) 조건에서 해상 보험 사고 시 보험금을 받는 자는 수입업자이다.
- ⑤ 상품 단가가 동일할 경우, 전년도 가격 조건이 (다)조건보다 수입업자에게 유리하다.

20. 다음과 같이 환율이 변동할 때 나타날 수 있는 현상으로 적절한 것을 <보기>에서 고른 것은? (단, 환율 이외의 요인은 고려하지 않는다.) [3점]

- 미국 시장에서 한국 기업은 일본 기업과 상품 가격 경쟁을 하고 있음.
- 환율은 다음과 같이 지속적으로 변동하고 있음.

구분	환율 변동
원/달러	환율 상승
엔/달러	환율 하락

—<보기>—

- ㄱ. 미국 시장에서 일본 상품보다 한국 상품의 가격 경쟁력이 높아질 것이다.
- ㄴ. 미국으로부터의 수입량이 한국에서는 증가할 것이고, 일본에서는 감소할 것이다.
- ㄷ. 한국 기업은 미달러 표시 외채 상환을 위한 환전을 앞당기는 것이 유리할 것이다.
- ㄹ. 한국 기업은 현재 환율로 한 달 후에 미달러를 매도하는 계약을 체결하는 것이 유리할 것이다.

- ① ㄱ, ㄴ ② ㄱ, ㄷ ③ ㄴ, ㄷ ④ ㄴ, ㄹ ⑤ ㄷ, ㄹ

* 확인 사항
○ 답안지의 해당란에 필요한 내용을 정확히 기입(표기)했는지 확인 하시오.